

**I- دالة اللوغاريتم النيبيري**

**1- تذكير** - نعلم أن كل دالة متصلة على مجال I تقبل دوال أصلية على I

- نعلم أن لكل r من  $\mathbb{Q} - \{-1\}$  الدالة  $x \rightarrow x^r$  تقبل دوال أصلية على  $]0; +\infty[$  هي  $x \rightarrow \frac{x^{r+1}}{r+1} + k$  حيث k عدد حقيقي ثابت

\*- في الحالة التي تكون r=-1 نحصل على الدالة  $x \rightarrow \frac{1}{x}$  المتصلة على  $]0; +\infty[$  ومنه تقبل دوال أصلية

وبالتالي الدالة  $x \rightarrow \frac{1}{x}$  تقبل دالة أصلية وحيدة تنعدم في 1.

**2- تعريف**

الدالة الأصلية لدالة  $x \rightarrow \frac{1}{x}$  على  $]0; +\infty[$  التي تنعدم في النقطة 1 تسمى دالة اللوغاريتم النيبيري و يرمز لها بالرمز ln أو Log

$$\begin{cases} x > 0 \\ f'(x) = \frac{1}{x} \Leftrightarrow f(x) = \ln(x) \\ f(1) = 0 \end{cases}$$

**3- خاصيات**

**أ- خاصيات**

\*- مجموعة تعريف الدالة ln هي  $]0; +\infty[$  و  $\ln(1)=0$

\*- الدالة ln متصلة على  $]0; +\infty[$

\*- الدالة ln قابلة للاشتقاق على  $]0; +\infty[$  و  $\ln'(x) = \frac{1}{x}$   $\forall x \in ]0; +\infty[$

\*- الدالة ln تزايدية قطعاً على  $]0; +\infty[$

**نتائج**

لكل عددين حقيقيين موجبين قطعاً x و y  
 $\ln x = \ln y \Leftrightarrow x = y$   
 $\ln x > \ln y \Leftrightarrow x > y$

**ملاحظة**

$$\ln x = 0 \Leftrightarrow x = 1$$

$$\ln x > 0 \Leftrightarrow x > 1$$

$$\ln x < 0 \Leftrightarrow 0 < x < 1$$

**تمرين 1** - حدد مجموعة تعريف الدالتين  $f : x \rightarrow \ln(x-1) + \ln(4-x)$  و  $g : x \rightarrow \ln(x^2 - 3x)$

**2** - حل في  $\mathbb{R}$  المعادلتين  $\ln(x^2 + 2x) = 0$  و  $\ln(x^2 - 3) = \ln(2x)$

**3** - حل في  $\mathbb{R}$  المتراجحتين  $\ln(x^2 - x - 2) < 0$  و  $\ln(x^2 - 2x) \leq \ln(x)$

**ب- خاصية أساسية**

**نشاط** ليكن a و b عددين حقيقيين موجبين قطعاً و F دالة عددية معرفة على  $]0; +\infty[$  بـ  $F(x) = \ln(ax)$

1- بين أن  $F'(x) = \frac{1}{x}$   $\forall x \in ]0; +\infty[$  و استنتج ان F دالة أصلية لدالة  $x \rightarrow \frac{1}{x}$  على  $]0; +\infty[$

2- بين أن  $F(x) = \ln(ax) = \ln a + \ln x$   $\forall x \in ]0; +\infty[$  ثم استنتج  $\ln(ab) = \ln a + \ln b$

## الجواب

1- لدينا  $F(x) = \ln \circ u(x)$  حيث  $u(x) = ax$

$$\forall x \in ]0; +\infty[ \quad F'(x) = u'(x) \times (\ln)'(u(x)) = a \cdot \frac{1}{ax} = \frac{1}{x}$$

ومنه  $F$  دالة أصلية لدالة  $x \rightarrow \frac{1}{x}$  على  $]0; +\infty[$

2- لدينا  $F$  و  $x \rightarrow \ln x$  دالتان أصليتان لدالة  $x \rightarrow \frac{1}{x}$  على  $]0; +\infty[$

$$\forall x \in ]0; +\infty[ \quad F(x) = k + \ln x \quad \text{اذن}$$

لدينا  $F(1) = \ln(a)$  و  $F(1) = k$  ومنه  $k = \ln a$

$$\forall x \in ]0; +\infty[ \quad F(x) = \ln(ax) = \ln a + \ln x \quad \text{اذن}$$

بوضع  $x = b$  نحصل على  $\ln(ab) = \ln a + \ln b$

## خاصية أساسية

$$\forall (a; b) \in (]0; +\infty[)^2 \quad \ln(ab) = \ln a + \ln b$$

## ج- خاصيات

$$\forall x \in ]0; +\infty[ \quad \ln \frac{1}{x} = -\ln x$$

$$\forall (x; y) \in ]0; +\infty[^2 \quad \ln \frac{x}{y} = \ln x - \ln y$$

$$\forall (x_1; x_2; \dots; x_n) \in ]0; +\infty[^n \quad \ln(x_1 \times x_2 \times \dots \times x_n) = \ln x_1 + \ln x_2 + \dots + \ln x_n$$

$$\forall x \in ]0; +\infty[ \quad \forall r \in \mathbb{Q}^* \quad \ln x^r = r \ln x$$

## البرهان

$$\ln\left(x \times \frac{1}{x}\right) = \ln 1 \Leftrightarrow \ln x + \ln \frac{1}{x} = 0 \Leftrightarrow \ln \frac{1}{x} = -\ln x \quad \diamond$$

$$\ln x^r = \ln(\underbrace{x \times x \times \dots \times x}_r \text{ facteurs}) = \underbrace{\ln x + \ln x + \dots + \ln x}_r \text{ termes} = r \ln x \quad \text{فان } r \in \mathbb{N}^* \quad \diamond$$

$$\ln x^r = \ln x^{-n} = \ln \frac{1}{x^n} = -\ln x^n = -n \ln x = r \ln x \quad \text{ومنه } r = -n \quad \text{فإننا نضع } r \in \mathbb{Z}_-^*$$

$$y = x^{\frac{p}{q}} \Leftrightarrow x^p = y^q \quad \text{نعلم أن } q \in \mathbb{N}^* \quad p \in \mathbb{Z}^* \quad / \quad \frac{p}{q} = r \quad \text{إذا كان}$$

$$\ln x^{\frac{p}{q}} = \frac{p}{q} \ln x \quad \text{اذن} \quad \ln y = \frac{p}{q} \ln x \quad \text{أي } p \ln x = q \ln y \quad \text{و بالتالي } \ln x^p = \ln y^q \quad \text{ومنه}$$

$$\ln x^r = r \ln x \quad \text{أي}$$

$$\forall x \in ]0; +\infty[ \quad \ln \sqrt{x} = \frac{1}{2} \ln x \quad \text{حالة خاصة}$$

تمرين هل الدالتان  $f$  و  $g$  متساويتين في الحالتين التاليتين

$$f(x) = \ln(x-1)^2 \quad g(x) = 2 \ln|x-1| \quad (a)$$

$$f(x) = \ln x (x-1) \quad g(x) = \ln x + \ln(x-1) \quad (b)$$

$$\ln \sqrt{\sqrt{2}+1} + \ln \sqrt{\sqrt{2}-1} \quad \text{أحسب (1) تمرين}$$

$$\ln 2 \approx 0,7 \quad \ln 3 \approx 1,1 \quad \text{إذا علمت أن } \ln \frac{2}{9} \quad \text{و } \ln \sqrt{6} \quad \text{أحسب قيمة مقربة لـ } \ln \sqrt{6} \quad (2)$$

#### 4- دراسة دالة ln

(a) دالة ln تزايدية قطعاً على  $]0; +\infty[$

(b) مبرهنة 1 (نقبل)  $\lim_{x \rightarrow +\infty} \ln x = +\infty$

$\lim_{x \rightarrow 0^+} \ln x = -\infty$  مبرهنة 2

البرهان نضع  $x = \frac{1}{t}$   
 $\lim_{x \rightarrow 0^+} \ln x = \lim_{t \rightarrow +\infty} \ln \frac{1}{t} = \lim_{t \rightarrow +\infty} -\ln t = -\infty$

(c) العدد e

لدينا الدالة ln تزايدية قطعاً على  $]0; +\infty[$  ومتصلة و  $\ln(]0; +\infty[) = \mathbb{R}$  و منه المعادلة  $\ln x = 1$  تقبل حلاً وحيداً في  $]0; +\infty[$  ويرمز له بالحرف e اذن  $\ln e = 1$   
 نقبل أن e ليس عدداً جذرياً و قيمته المقربة هي  $e \approx 2,71828$

(d) جدول تغيرات الدالة ln

x	0	1	e	$+\infty$
f	$-\infty$	0	1	$+\infty$

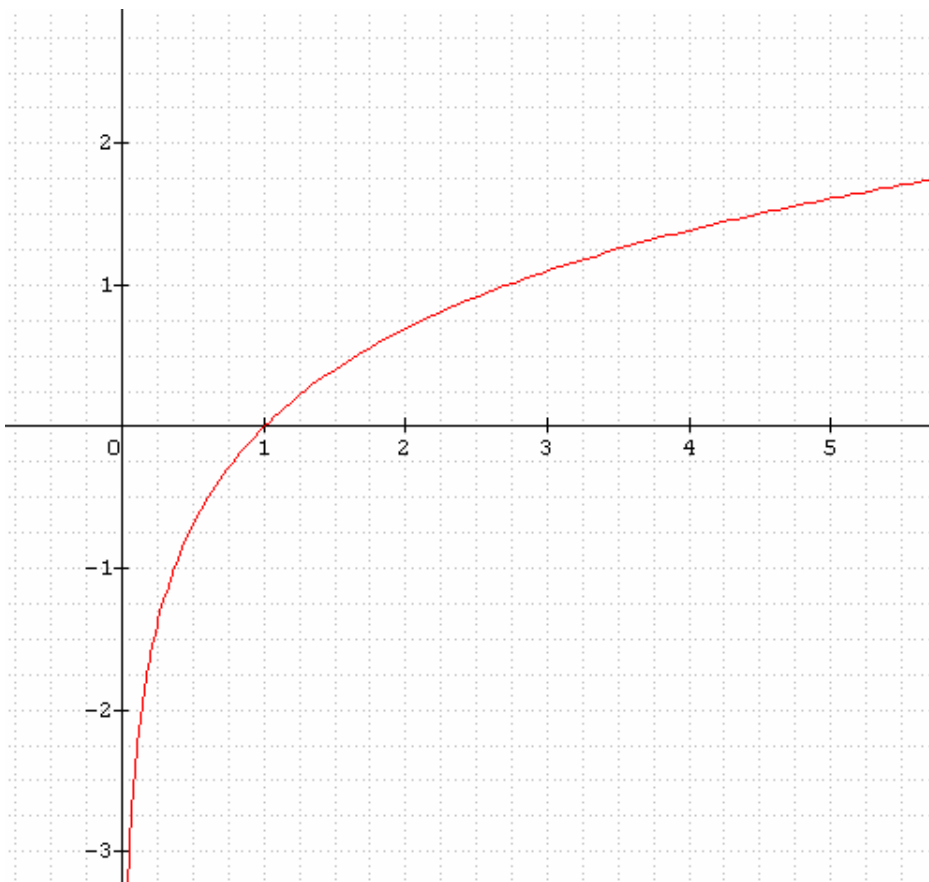
(e) الفروع اللانهائية بما أن  $\lim_{x \rightarrow 0^+} \ln x = -\infty$  فان محور الارايب مقارب للمنحنى الممثل للدالة ln

مبرهنة  $\lim_{x \rightarrow +\infty} \frac{\ln x}{x} = 0$

اذن المنحنى الممثل لدالة ln يقبل فرعاً شلجيمياً في اتجاه محور الأفاصيل

(f) دراسة التفرع  $(\ln)''(x) = -\frac{1}{x^2}$  اذن منحنى الدالة ln مقعر  $\forall x \in ]0; +\infty[$

(g) التمثيل المبياني



منحنى الدالة ln

## (h) نهايات هامة أخرى خاصة

$$n \in \mathbb{N}^* \text{ حيث } \lim_{x \rightarrow 0^+} x^n \ln x = 0 \quad \lim_{x \rightarrow +\infty} \frac{\ln x}{x^n} = 0 \quad \lim_{x \rightarrow 0} \frac{\ln(1+x)}{x} = 1 \quad \lim_{x \rightarrow 1} \frac{\ln x}{x-1} = 1 \quad \lim_{x \rightarrow 0^+} x \ln x = 0$$

$$\lim_{x \rightarrow 0^-} x \ln(x^2 - x) \quad \lim_{x \rightarrow +\infty} x \ln\left(\frac{x-2}{x}\right) \quad \lim_{x \rightarrow +\infty} x - \ln x \quad \text{حدد} \quad \text{تمرين}$$

## 5 - مشتقة الدالة اللوغارتمية أ- ميرهنة

u دالة قابلة للاشتقاق على مجال I و لا تنعدم على هذا المجال I

$$\forall x \in I \quad (\ln |u(x)|)' = \frac{u'(x)}{u(x)}$$

البرهان u لا تنعدم على I و منه u إما موجبة قطعاً على I أو سالبة قطعاً على I

إذا كانت u موجبة قطعاً على I فان  $f(x) = \ln u(x)$  ومنه  $f'(x) = u'(x) \ln' u(x) = \frac{u'(x)}{u(x)}$

إذا كانت u سالبة قطعاً على I فان  $f(x) = \ln(-u(x))$  ومنه

$$\forall x \in I \quad f'(x) = -u'(x) \ln'(-u(x)) = \frac{-u'(x)}{-u(x)} = \frac{u'(x)}{u(x)}$$

تمرين حدد مجموعة تعريف الدالة f و أحسب مشتقتها في الحالتين التاليتين

$$f(x) = \ln(x^2 + 2x) \quad (b) \quad f(x) = \ln|x^2 - 4| \quad (a)$$

## ب- تعريف

u دالة قابلة للاشتقاق على مجال I و لا تنعدم على المجال I

الدالة  $\frac{u'}{u}$  تسمى المشتقة اللوغارتمية للدالة u على المجال I

## ج- نتجة

u دالة قابلة للاشتقاق على مجال I و لا تنعدم على المجال I

الدوال الأصلية لدالة  $x \rightarrow \frac{u'(x)}{u(x)}$  على I هي الدوال  $x \rightarrow \ln|u(x)| + c$  حيث c عدد ثابت

تمرين 1 أوجد دالة أصلية لدالة f على المجال I في الحالات التالية

$$\begin{cases} f(x) = \frac{x-1}{x+1} \\ I = ]-1; +\infty[ \end{cases} \quad \begin{cases} f(x) = \tan(x) \\ I = \left] -\frac{\pi}{2}; \frac{\pi}{2} \right[ \end{cases} \quad \begin{cases} f(x) = \frac{x-1}{x^2-2x} \\ I = ]2; +\infty[ \end{cases}$$

تمرين 2 أحسب الدالة المشتقة لدالة f على  $]-1; +\infty[$  حيث  $f(x) = \frac{\sqrt{x^3+1}}{(x+2)^2}$

## II- دالة اللوغارتم للأساس a

### 1- تعريف

a عدد حقيقي موجب قطعاً و مخالف للعدد 1

الدالة  $x \rightarrow \frac{\ln x}{\ln a}$  المعرفة على  $]0; +\infty[$  تسمى دالة اللوغارتم للأساس a ونرمز لها بالرمز  $\text{Log}_a$

$$\forall x \in ]0; +\infty[ \quad \text{Log}_a(x) = \frac{\ln x}{\ln a}$$

### ملاحظات

\*- دالة اللوغارتم النيبيري هي دالة اللوغارتم للأساس e  $\text{Log}_e(x) = \frac{\ln x}{\ln e} = \ln x$   $\forall x \in ]0; +\infty[$

$$\forall a \in \mathbb{R}^{+*} - \{1\} \quad \forall r \in \mathbb{Q} \quad \text{Log}_a(a) = 1 \quad \text{Log}_a(a^r) = r \quad \text{-*}$$

## -2- خاصيات

بما أن لكل  $x$  من  $]0; +\infty[$  حيث  $\text{Log}_a(x) = k \ln x$  فان الدالة  $\text{Log}_a$  تحقق جميع الخاصيات التي تحققها الدالة  $\ln$

$$\forall (x; y) \in (]0; +\infty[)^2 \quad \forall r \in \mathbb{Q} \quad \text{Log}_a(xy) = \text{Log}_a(x) + \text{Log}_a(y)$$

$$\text{Log}_a\left(\frac{x}{y}\right) = \text{Log}_a(x) - \text{Log}_a(y) \quad ; \quad \text{Log}_a(x^r) = r \text{Log}_a(x)$$

## -3- دراسة دالة اللوغارتم للأساس a

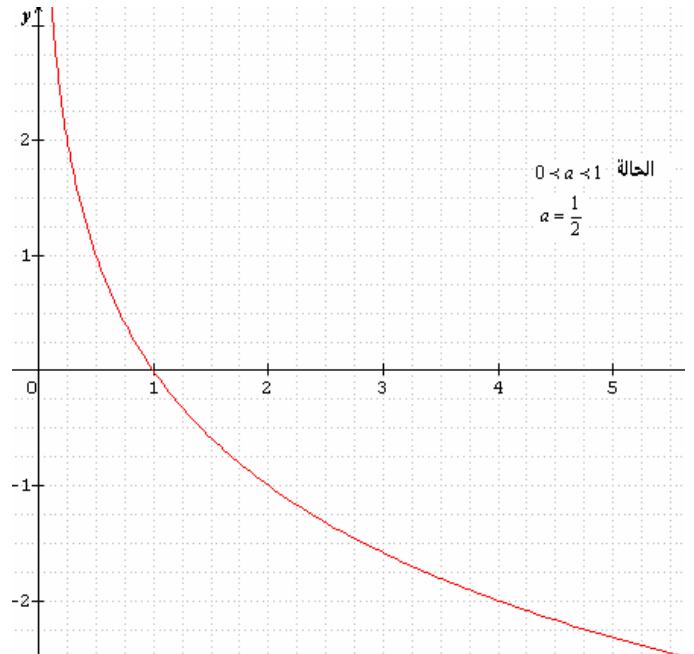
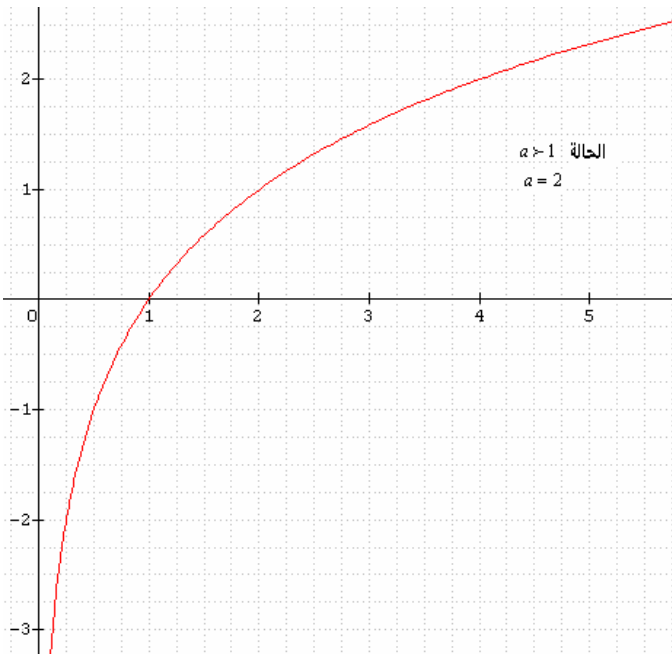
$$\forall x \in ]0; +\infty[ \quad \text{Log}_a'(x) = \frac{1}{x \ln a}$$

\*- اذا كان  $0 < a < 1$  فان  $\ln a < 0$  ومنه  $\text{Log}_a' < 0$  اذن  $\text{Log}_a$  تناقصية قطعاً على  $]0; +\infty[$

$$\lim_{x \rightarrow +\infty} \text{Log}_a x = -\infty \quad \lim_{x \rightarrow 0^+} \text{Log}_a x = +\infty$$

\*- اذا كان  $a > 1$  فان  $\ln a > 0$  ومنه  $\text{Log}_a' > 0$  اذن  $\text{Log}_a$  تزايدية قطعاً على  $]0; +\infty[$

$$\lim_{x \rightarrow +\infty} \text{Log}_a x = +\infty \quad \lim_{x \rightarrow 0^+} \text{Log}_a x = -\infty$$



## -4- حالة خاصة اللوغارتم العشري

### تعريف

الدالة اللوغارتمية التي أساسها 10 تسمى دالة اللوغارتم العشري و يرمز لها بـ  $\log$

$$\forall x \in ]0; +\infty[ \quad \log x = \text{Log}_{10} x = \frac{\ln x}{\ln 10}$$

### ملاحظات

\*- اذا وضعنا  $M = \frac{1}{\ln 10}$  فاننا نحصل على  $\log x = M \ln x$   $(M \approx 0,434)$   $\forall x \in ]0; +\infty[$

$$\forall m \in \mathbb{Z} \quad \log 10^m = m \quad \text{-*}$$

تمرين 1- أحسب  $\log 0,01$   $\log 10000$

$$\log(x-1) + \log(x+3) = 2 \quad \text{-2- حل في } \mathbb{R}$$

$$\begin{cases} x + y = 65 \\ \log x + \log y = 3 \end{cases} \quad \text{-3- حل في } \mathbb{R}^2$$