

تمارين توليفية

تمرين 1

أتمم الجدول الآتي إذا علمت أن أعداد السطر الأول متناسبة مع أعداد السطر الثاني :

60	36	12
.....	10	5

تمرين 2

من بين الجداول الآتية ما هي التي تحقق وضعية التناسبية ؟ علل جوابك . :

4,5	7,5	6	1,5
3	5	4	1

7	3,5	1,4
2	0,5	0,2

5	15	2,5	1
2,5	7,5	1,25	0,5

1,5	4,5
2	6

تمرين 3

أحسب الأعداد a و b و c إذا علمت أن الجدول الآتي يحقق وضعية التناسبية و أن : $\frac{a}{4} = 2$

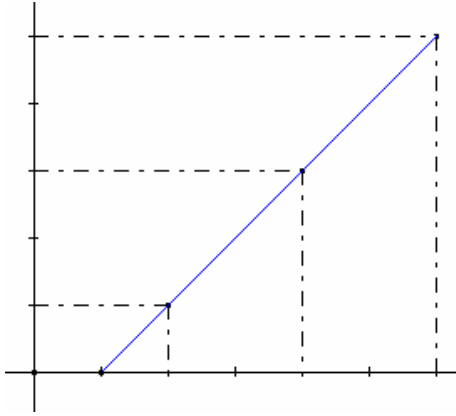
a	15	c
4	b	9

تمرين 4

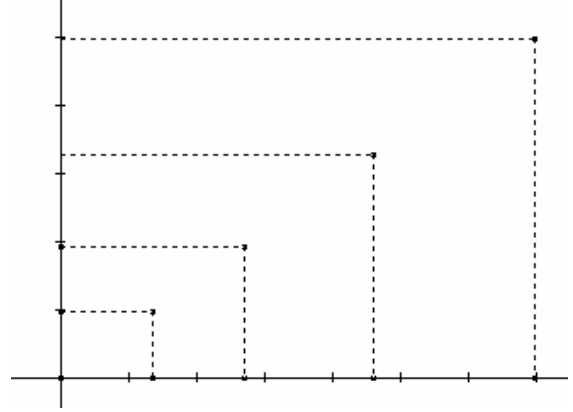
أحسب الأعداد a و b و c و d لكي يحقق الجدول الآتي وضعية التناسبية مع توضيح المراحل.

10,5	a	7	1,5	d
b	2	4	c	8

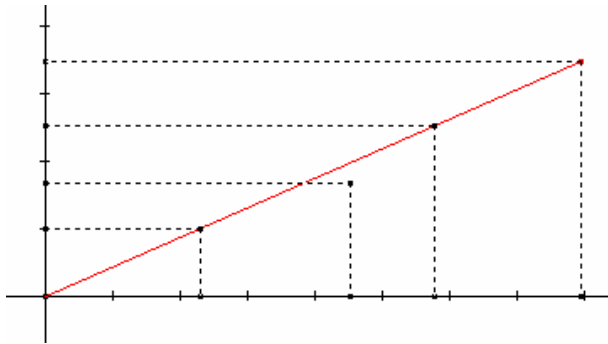
من بين المبيانات الآتية ما هي التي تحقق وضعية التناسبية ؟ علل جوابك .



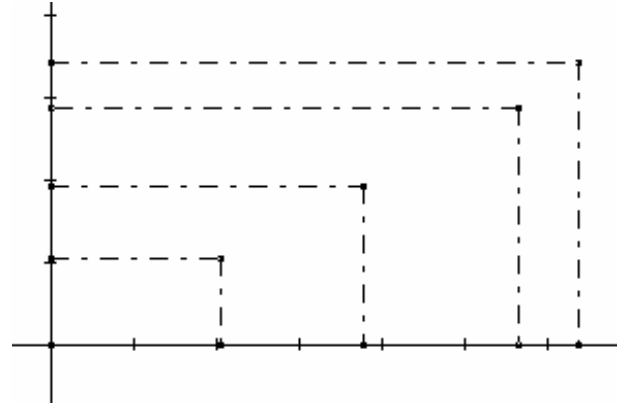
(1)



(2)



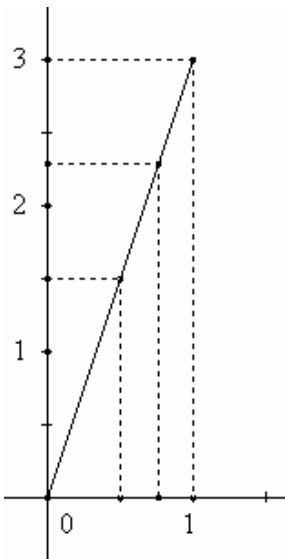
(3)



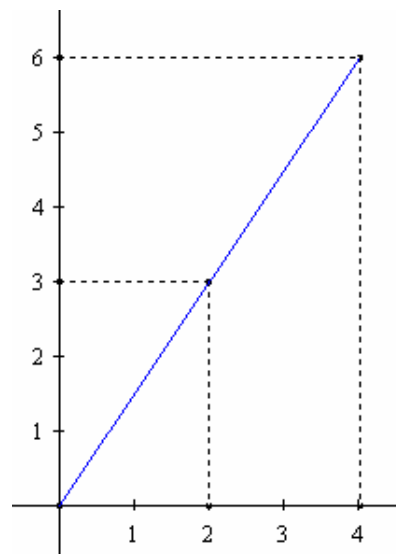
(4)

لاحظ المبيانيين الآتيين :

الشكل 1



الشكل 2



حدد معامل التناسب في كل حالة من الحالتين أعلاه : الشكل 1 و الشكل 2 معللا جوابك .

- راكب دراجة يقطع 60 km في ظرف ساعة و 20 دقيقة .
 (1) - ما هي المسافة التي سيقطعها في ظرف ساعة و صف ؟
 (2) - ما هي المدة الزمنية التي سيستغرقها راكب الدراجة لقطع 135 km ؟

لاحظ الجدول الآتي ثم حدد قيمة كل من العشرية النسبية x و y و z ، إذا علمت أن

أعداد

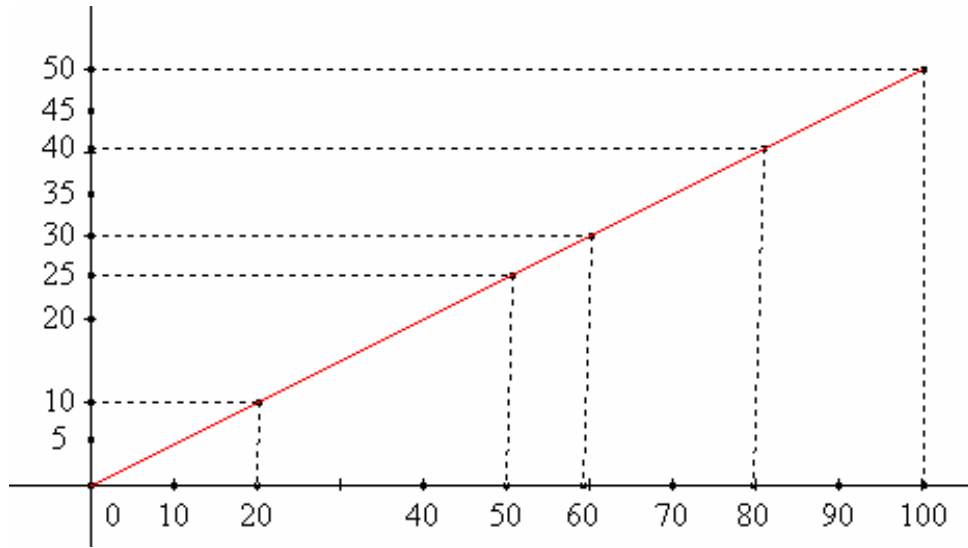
السطر الأول متناسبة مع أعداد السطر الثاني .

$x+1$	2	$y-2$	-5
6	-3	-9	$z+3$

أتمم الجدول الآتي ماعلا جوابك :

.....	10	12	البعد الحقيقي ب m
$\frac{1}{500}$	$\frac{1}{125}$	السلم (e)
7	6	البعد على التصميم ب cm

المبيان الآتي يعطى كمية الماء التي تسقط من صنوبر و المدة الزمنية الموافقة لها .
 كمية الماء باللتر



المدة الزمنية بالدقيقة

(1) - استعن بالمبيان لملأ الجدول الآتي

1h 40min	1h 20min	1h	50	20	المدة
....	كمية الماء

تمرين 11

يمنح صاحب مصنع لعماله زيادة في الأجور قدرها 15% .
أتمم الجدول الآتي :

7000	3500	1250	1000	الأجور قبل الزيادة ب DH
....	الأجور بعد الزيادة ب DH

تمرين 12

أحسب الرابع المتناسب في كل من الحالات الآتية :

....	5
31,5	3

3
7,5	3,75

0,25	5
....	2

1,25	7,5
0,5

تمرين 13

على الخريطة الطرقية للمغرب، قمنا بقياس المسافات بين بعض المدن المغربية و وجدنا أنها تساوي 48 سنتمترا ، 68 سنتمترا، 30 سنتمترا، 34 سنتمترا، 6 و 20 سنتمترات 200 سنتمترا.

(1) – هل يمكنك معرفة المسافات الحقيقية بن المدن ؟ ماذا ينقص لمعرفة ذلك ؟

(2) – إذا علمت أن المسافة الحقيقية بين مراكش والدار البيضاء هي 240 كيلومتر و أن المسافة بينهما على الخريطة هي 48 سنتمترا، فهل يمكنك معرفة المسافات الحقيقية الأخرى ؟

(3) – أتمم الجدول الآتي :

200	20	34	30	68	48	المسافة على الخريطة بالسنتمترا
....	المسافة الحقيقية بالكيلومتر

(4) – ما هو إذن سلم هذه الخريطة ؟

(5) – ما هي المسافة الحقيقية بين مدينتين تفصل بينهما على الخريطة 45 سنتمترا ؟

(6) – ما هي المسافة التي تفصل بين مدينتين على الخريطة، إذا علمت أن المسافة الحقيقية بينهما هي 120 كيلومتر؟